

**Демонстрационный вариант
диагностической работы по географии для учащихся 7 классов**

Инструкция по выполнению работы

На выполнение диагностической работы по географии отводится 60 минут. Работа состоит из 22 заданий.

При выполнении работы разрешается использовать географический атлас для 7 класса.

Часть А

При выполнении заданий этой части, верным является только один ответ.

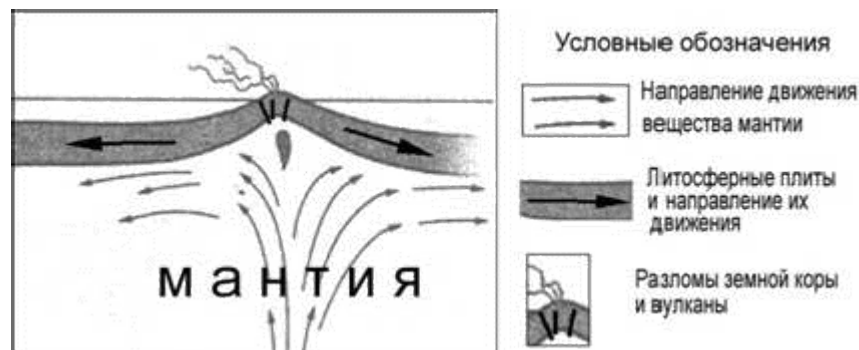
1. Какое из следующих утверждений о географическом положении Евразии верно?

- а) Территория Евразии расположена в двух частях света.
- б) Территория Евразии омывается водами трёх океанов.
- в) Крайняя западая точка территории имеет восточную долготу.
- г) Крайняя южная точка территории находится на полуострове Индостан

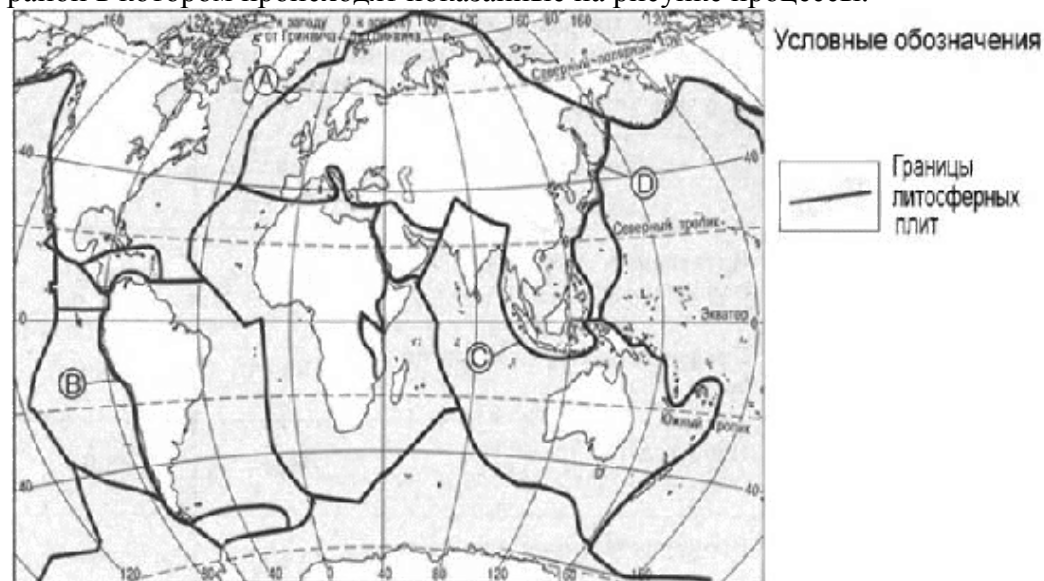
2. В пределах какой из перечисленных территорий земная кора наиболее молодая?

- а) п-ов Камчатка в) Восточно-Европейская равнина
- б) Уральские горы г) Западно-Сибирская равнина

3. На рисунке показаны процессы, происходящие на границе двух литосферных плит.



Используя карты атласа определите, какой буквой на карте отмечен район в котором происходят показанные на рисунке процессы.

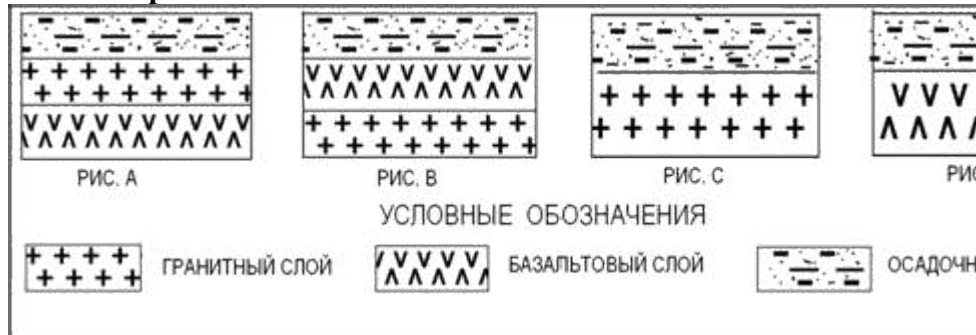


- а) А б) В в) С г) D

4. С помощью карт атласа определите, на территории какой из перечисленных стран наиболее вероятны сильные землетрясения?

- а) Австралия б) Германия в) Италия г) Норвегия

5. Земная кора под материками и под океанами имеет различное строение. На каком рисунке правильно показано строение океанической земной коры?



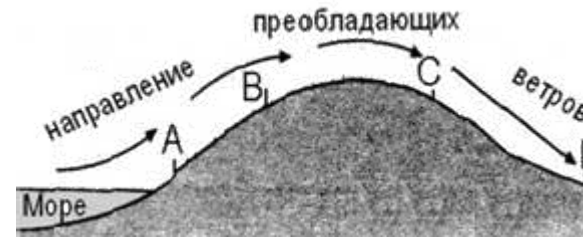
а) А б) В в) С г) Д

6. Верны ли следующие утверждения о действии климатообразующих факторов?

1. Теплые океанические течения способствуют уменьшению количества атмосферных осадков.
2. С удалением от моря увеличивается годовая амплитуда температур воздуха.

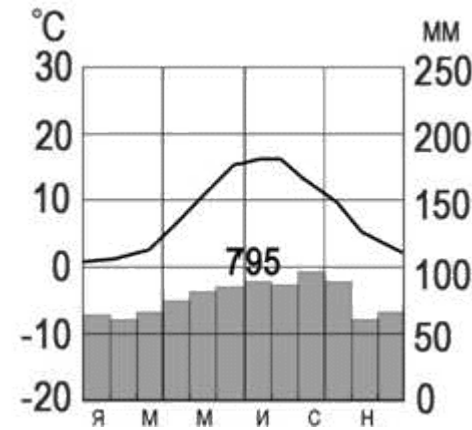
а) Верно только 1. б) Верно только 2.
в) Оба верны . г) Оба неверны.

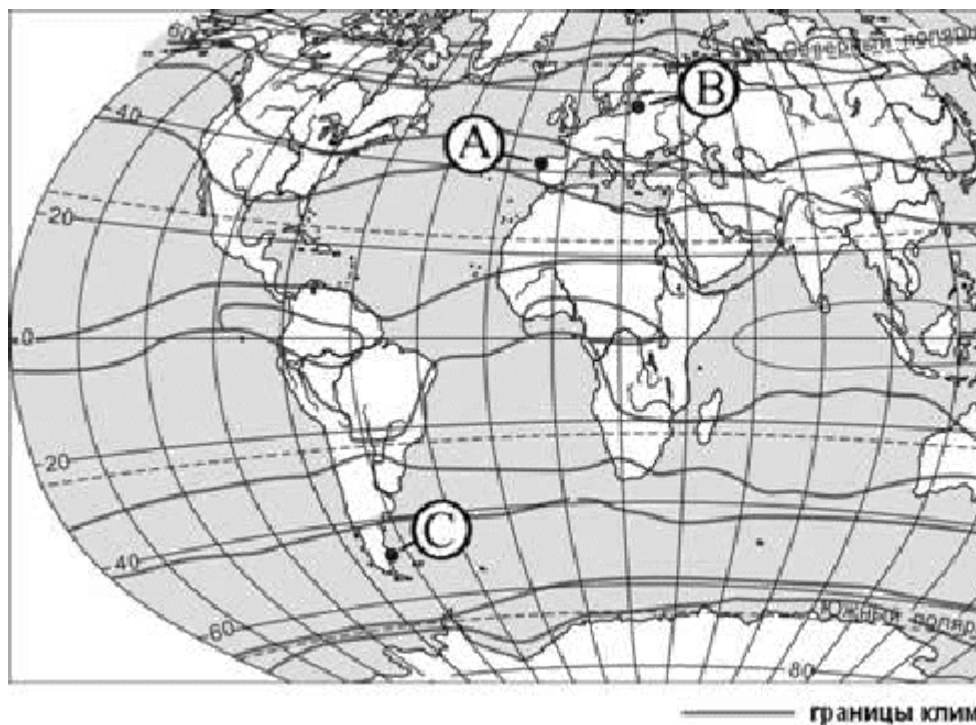
7. Определите, в каком из обозначенных на рисунке буквами пунктов будет выпадать наибольшее количество осадков



а) А б) В в) С г) Д

8. С помощью атласа определите, какой буквой на карте обозначен пункт, климатограмма которого показана на рисунке.

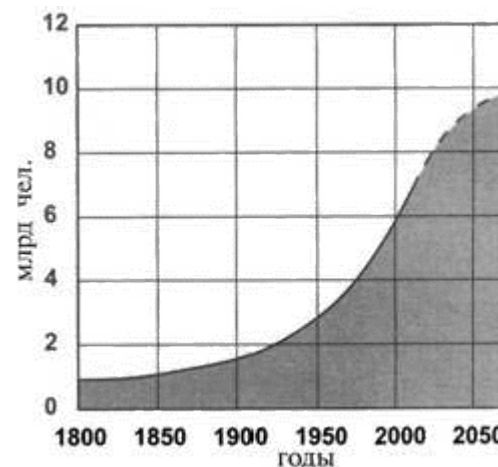




а) А б) В в) С г) D

9. В октябре 2011 г. численность населения Земли достигла 7 миллиардов.

С помощью графика определите, в какой период истории человечества численность населения Земли возрастала наиболее быстро.



а) 1800-1850 гг. в) 1850-1900 гг.

б) 1900-1950 гг. г) 1950-2000 гг.

10. На каком материке сосредоточена наибольшая часть населения Земли?

а) Африка в) Евразия

б) Сев. Америка г) Юж. Америка

11. С помощью атласа определите, в какой из перечисленных стран имеются обширные, незаселенные территории.

а) Австралия б) Германия в) Япония г) Турция

12. Высочайшая вершина мира и самая низкая точка на суше находится на материке

а) Африка в) Евразия

б) Сев. Америка г) Юж. Америка

13. Как называется многолетний режим погоды, повторяющийся в данной местности из года в год?

а) климат в) изотерма б) погода г) парниковый эффект

14. Какие ветры относятся к постоянным?

а) пассаты и муссоны б) пассаты и западные ветры

в) западные и муссоны г) муссоны и бризы

15. Экспедиция под командованием Ф.Ф.Беллинсгаузена и М.П. Лазарева

а) открыла пролив между Азией и Америкой

б) открыла Северный морской путь

в) открыла Антарктиду

г) первой достигла Южного полюса

Часть В

16. Установите соответствие: объект- название

1. Гора	а. Исландия
2. Равнина	б. Амазонская
3. Остров	в. Аконкагуа
4. Пролив	г. Дрейка

17. Установите соответствие между климатическим поясом и природной

зоной, образующейся в ее пределах. Запишите цифры, соответствующие выбранным ответам

КЛИМАТИЧЕСКИЙ ПОЯС

ПРИРОДНАЯ ЗОНА

А) субарктический

1) тайга

Б) субэкваториальный Южного полушария 2) саванны и редколесья

В) умеренный Северного полушария 3) тундры и лесотундры

4) арктические пустыни

18. Назовите материк, включающий в себя две части света.

Ответ:

19. Приведите пример климатического пояса, в пределах которого круглый

год господствуют воздушные массы одного и того же типа.

Ответ:

20. Определите страну по описанию ее географического положения:

Страна расположена в пределах тропического климатического пояса и омывается с запада Тихим, а с востока – Атлантическим океаном. В рельефе преобладают горы и плоскогорья, по уровню экономического развития страна относится к развивающимся странам.

а) Колумбия; б) Куба ; в) Мексика; г) Венесуэла; д) Аргентина

Часть С

Задания с развернутым ответом

21. Природные условия оказывают огромное влияние на размещение

населения. Используя карты атласа, объясните, какие особенности природы Алжира определяют низкую плотность населения на значительной части его территории.

22.В каких частях материка Евразии располагаются пустыни? Приведите примеры пустынь тропического, субтропического и умеренного поясов. Какие общие причины объясняют появление пустынь?